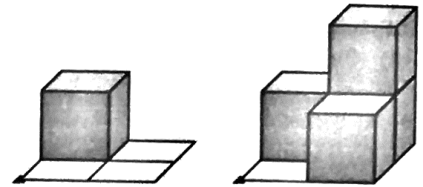


## Baupläne

Die Zahlen in den Feldern geben an, wie viele Würfel dort stehen.

Bauwerk



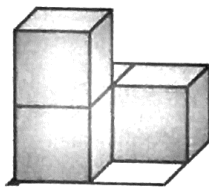
Bauplan



1	0
0	0

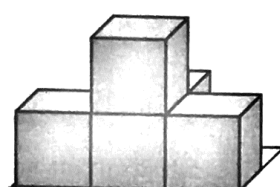
1	2
0	1

- 1 Aus wie vielen gleich großen Würfeln sind diese Bauwerke gebaut? Erstelle die Baupläne für diese Bauwerke.




1	

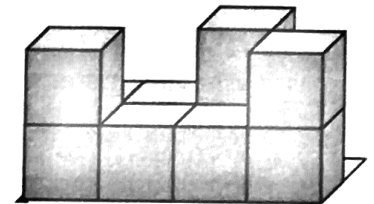
4 Würfel



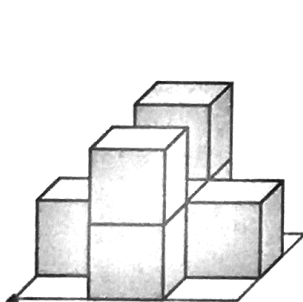

\_\_\_\_\_ Würfel



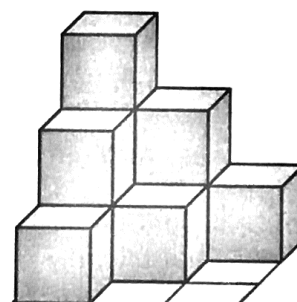

\_\_\_\_\_ Würfel



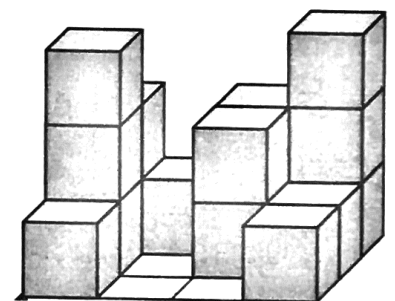

\_\_\_\_\_ Würfel




\_\_\_\_\_ Würfel




\_\_\_\_\_ Würfel




\_\_\_\_\_ Würfel