
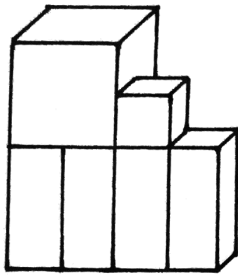




# Körper

① Aus wie vielen Quadern und Würfeln bestehen diese zusammengesetzten Formen?

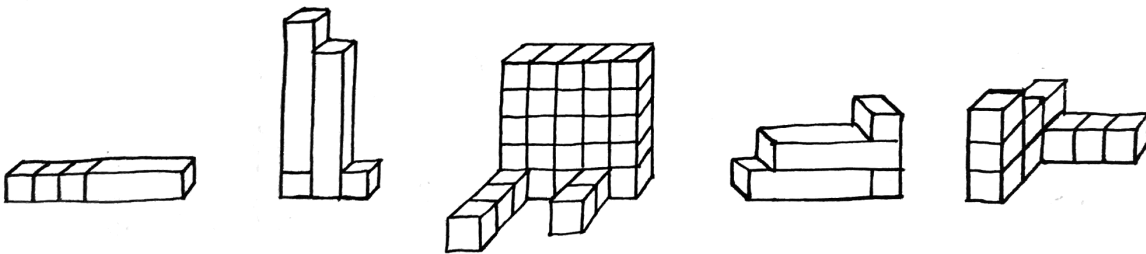


\_\_\_\_\_ Quader \_\_\_\_\_ Würfel



② Ordne die Figuren den „Plänen“ zu! Mal das Bauwerk und den entsprechenden Bauplan jeweils in derselben Farbe an!

Bauwerke:



Baupläne (→ Abdrücke der Bauwerke):

